

試題範例

試卷一 短題目及組合式試題

甲部

1. (a) 甚麼是價格？ (2 分)
- (b) 如果某物品的名義價格上升，在甚麼情況下我們可以說這件物品較為便宜？ (3 分)

建議答案

- | | |
|----------------------------|---|
| (a) 價格是物品之間的交易比率。 | 1 |
| 它可以名義價格和相對價格來表示。 | 1 |
| (b) 如果某物品的名義價格上升的幅度較其他物品小， | 2 |
| 它的相對價格就會下降，而我們就能說它較為便宜。 | 1 |

答題策略

這問題是關於相對價格的概念，因此學生不可以名義價格下降作為答案。

- ★ 2. (a) 需要定律是甚麼？試寫出該定律。 (2 分)
- (b) 甚麼是供給量？甚麼是購買量？ (3 分)
- 在甚麼情況下，供給量會大於購買量？

建議答案

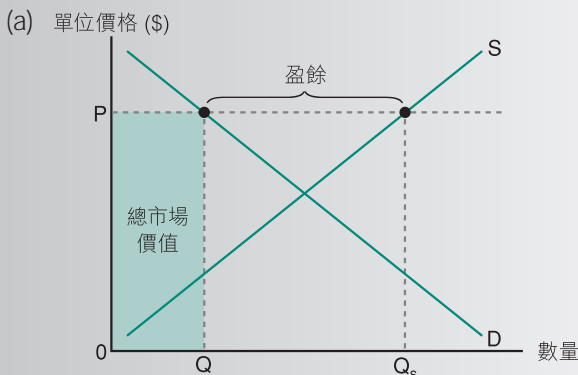
- | | |
|---|---|
| (a) 需求定律指出：假設其他因素不變，當一件物品的價格上升時，其需求量會下降，反之亦然。 | 2 |
| (b) 供給量是指在一個購買計劃下，供給者於某一個價格願意並有能力供給的物品數量。 | 1 |
| 購買量是指買方實際向銷售者購買的數量。 | 1 |
| 於盈餘 / 超額供給的情況下，供給量會大於購買量。 | 1 |

答題策略

學生須先寫出供給量及購買量的定義。

- ★ 3. 藍光影碟播放機剛於市面推出。由於訂價太高，現有大量的播放機存貨出現。
- (a) 以圖輔助，解釋這現象。 (5 分)
- (b) 於你在 (a) 部的圖表顯示該種播放機的總市場價值。 (2 分)

建議答案



答題策略

這顯示市場不是處於均衡狀態。

答題策略

學生須解釋現象，而不是預測價格的轉變。

答題策略

- (a) 價格定於均衡水平以上：
1 分，顯示盈餘：1 分
- (b) 總市值以陰影部份顯示：
2 分



6.1

香港的三類生產

有人說初級生產在香港並不重要，次級生產的重要性持續降低，而三級生產則高速發展。這種說法有事實和數據的支持嗎？

題解

我們可以從以下各方面了解三類生產的重要性：

1. 每類生產所僱用的勞動力
2. 每類生產對總產值的貢獻

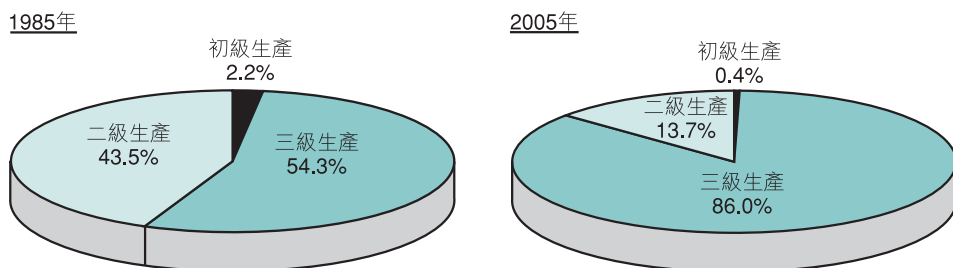


圖 6.1 三類生產所僱用的勞動力

(資料來源：香港政府新聞處，《香港 2006》，香港：香港政府新聞處，2007。)

- 在該兩年，三級生產僱用勞工的比例是最大的，而初級生產僱用的比例則是最少的。
- 由 1985 – 2005 年，從僱用勞工方面衡量，三級生產的重要性提高了，而初級及次級生產的重要性則降低了。

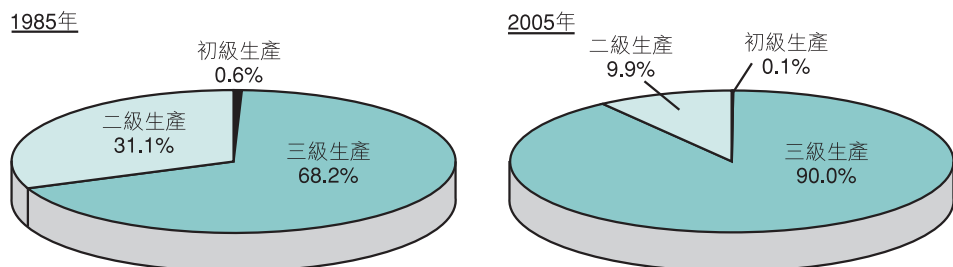


圖 6.2 三類生產對總產值的貢獻

(資料來源：香港政府新聞處，《香港 2006》，香港：香港政府新聞處，2007。)

- 在該兩年，三級生產對總產量的貢獻最大(即其增值最高)，而初級生產對總產量的貢獻則最少。
- 由 1984 – 2004 年，從對總產量貢獻的方面衡量，三級生產的重要性提高了，而初級及次級生產的重要性則降低了。