










數數看，在 內填上適當的數。(每題 1 分，共 6 分)






1.  隻 2.  隻 3.  隻
4.  隻 5.  朵 6.  隻

看看圖，在 上填上答案。(第 7-8 題每題 4 分，第 9 題 3 分，共 11 分)




有 個  和
 個 。
 和 是 。
 + =



有 個  和
 個 。
 和 是 。
 + =

9.



 有 _____ 粒，

 有 _____ 粒。

 比  * 多 / 少。


(* 圈出正確答案)

圈出所有指定的物件。(每題 3 分，共 6 分)


10. 編號是偶數的 



11. 編號是奇數的 



把對應的項目用直線連起來。(5 分)



8

立體圖形(一)

日期：





限時：17分鐘

加油箱




下列各題中，把形狀不同的物件圈出來。

建議作答時間：4分鐘

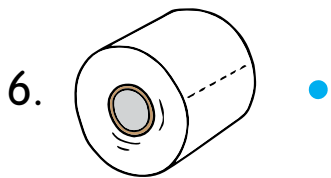


把下列物件與形狀相似的立體圖形和對應的名稱，用直線連起來。


建議作答時間：4分鐘




球



圓柱



圓錐



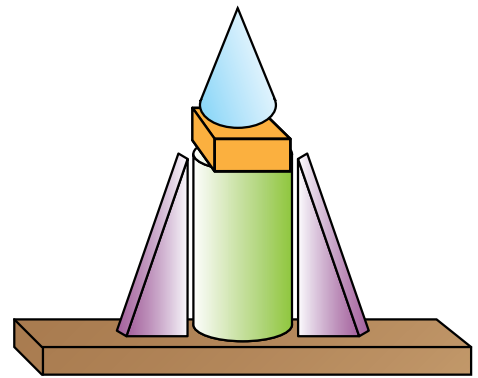
角柱

看看用立體圖形疊成的火箭，填上適當的數。  建議作答時間：3分鐘

9. 圖中有角柱 _____ 個。


10. 圖中有圓柱 _____ 個。

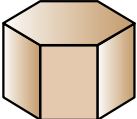
11. 圖中有圓錐 _____ 個。



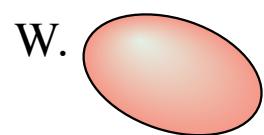
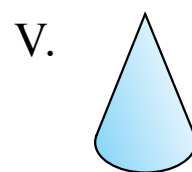

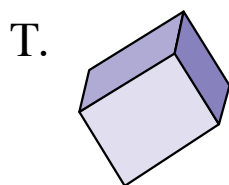
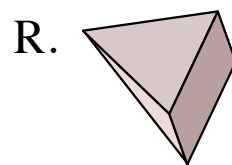
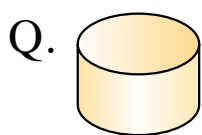

火箭

在 _____ 上填上各立體圖形的名稱。  建議作答時間：2分鐘

12.  名稱：_____

13.  名稱：_____

寫出所有代表答案的英文字母。  建議作答時間：4分鐘



14. 圓柱：_____

15. 角錐：_____

16. 角柱：_____

17. 球：_____



小提點

第 15 題：不要被立體圖形的擺放方向誤導。

表現評估







評估表

完成特訓後，你能掌握每個特訓重點嗎？不妨自我評估，在適當的方格內打「✓」，然後請家長也來評估。

 全部掌握

 部分掌握

 還要努力

項目名稱	自我評估			家長評估		
						
特訓 1						
特訓 2						
特訓 3						
特訓 4						
特訓 5						
特訓 6						
特訓 7						
特訓 8						
特訓 9						
特訓 10						
特訓 11						
特訓 12						
特訓 13						
特訓 14						
特訓 15						







成績表

完成了綜合測驗，記下自己的分數後，嘗試評估自己的表現，在適當的方格內打「✓」，然後請家長也來評估。

 非常滿意

 尚算滿意

 還要努力

項目名稱	分數	自我評估			家長評估		
							
綜合測驗 1	/ 100						
綜合測驗 2	/ 100						
綜合測驗 3	/ 100						