

9 方向

日期：

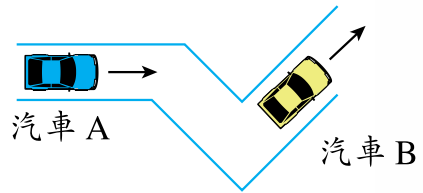
限時：17 分鐘



把下列各題正確選項的圓圈塗黑。建議作答時間：3 分鐘

- 佳欣面向東南方。她背向哪一方？
 A. 東北方 B. 西北方 C. 西南方 D. 北方
- 志文的左面是西北方，他的後面是哪一方？
 A. 南方 B. 北方 C. 東北方 D. 西南方

- 右圖中，如果汽車 A 正朝東北方行駛，那麼汽車 B 正朝哪一方行駛？



- A. 北方 B. 東方
 C. 東南方 D. 西北方

回答下列各題。建議作答時間：6 分鐘

- 右圖中，方格 7 在方格 8 的東方。
 (a) 方格 4 在方格 3 的 * 東南 / 西南方。
 (* 圈出正確答案)
 (b) 方格 5 的西北方是方格 _____。
 (c) 兔子從方格 1 順數跳到方格 5，跳的方向是：




1	9	8
2	3	7
4	5	6


_____ 方 → _____ 方 →
 _____ 方 → _____ 方

- 哥哥面向西南方，和姐姐面對面站着。姐姐的右面是 _____ 方。
- 右圖中，時鐘平放在桌上，分針現正指向南方。

- (a) 時針指向 _____ 方。
 (b) 一小時半後，時針會指向 _____ 方。

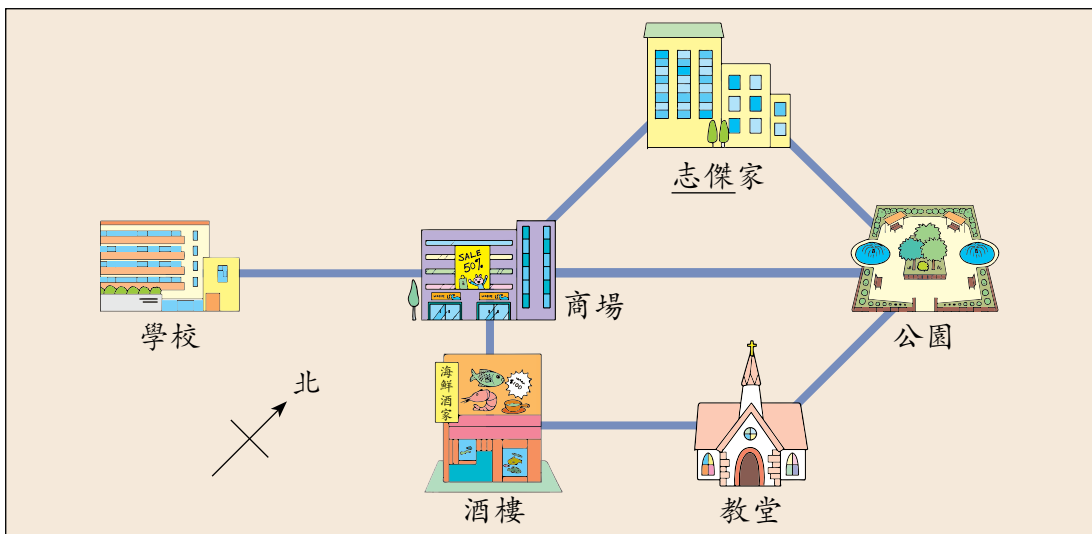


下面是海洋樂園的地圖，根據地圖回答下列各題。  建議作答時間：3 分鐘



7. 水族館在兒童園地的 _____ 方。
8. 鯊魚館的西南方是 * 水母館 / 海龜島。 (* 圈出正確答案)
9. 出口在海龜島的東南方。在上圖中畫出 ★ 代表出口的位置。

下面是志傑家附近的地圖，根據地圖回答下列各題。  建議作答時間：5 分鐘



10. 商場在志傑家的 _____ 方，教堂在 _____ 的東北方。
11. 志傑由家向 _____ 方走可到達公園。
12. 如果志傑的爸爸向西南方走，再向西北方走，跟着轉向北方走，便可回到家中，他原來位於 _____。



小提示

第 12 題：用倒推的方法即可找出答案。



日期：

分數： / 100

限時：40 分鐘

用直式計算下列各題。(每題 2 分，共 12 分)

1.

$$\begin{array}{r} 63 \\ \times 75 \\ \hline \end{array}$$

2.

$$\begin{array}{r} 350 \\ \times 22 \\ \hline \end{array}$$

3.

$$\begin{array}{r} 428 \\ \times 69 \\ \hline \end{array}$$

4.

$$19 \overline{) 98}$$

5.

$$34 \overline{) 816}$$

6.

$$56 \overline{) 723}$$

計算下列各題。(每題 2 分，共 16 分)

7. $75 \div 20 =$ _____	8. $92 \div 46 =$ _____
9. $64 \div 13 =$ _____	10. $759 \div 69 =$ _____
11. $896 \div 28 =$ _____	12. $568 \div 34 =$ _____
13. $540 \div 15 \div 3 =$ _____	14. $25 \times 19 \times 4 =$ _____

把算式與對應的答案連起來。(每項 2 分，共 10 分)

15.

74×39

$918 \div 34$

$816 \div 51$

215×47

28×106

2968

10 105

2886

27

16

圈出三角形內的數的所有倍數。(每題 2 分，共 8 分)

16.

3

9 13 45 26

57 102 64 71

17.

8

68 96 224 36

104 78 4 152

18.

19

1 19 85 133

171 67 75 209

19.

25

25 10 55 175

300 5 225 65

在橫線上填上答案。(每題 2 分，共 6 分)

20. 寫出 55 的第 3 個倍數：_____

21. 列出 100 以內 23 的所有倍數：_____

22. 寫出最接近 100 的 18 的倍數：_____

表現評估







評估表

完成特訓後，你能掌握每個特訓重點嗎？不妨自我評估，在適當的方格內打「✓」，然後請家長也來評估。

 全部掌握

 部分掌握

 還要努力


項目名稱	自我評估			家長評估		
						
特訓 1						
特訓 2						
特訓 3						
特訓 4						
特訓 5						
特訓 6						
特訓 7						
特訓 8						
特訓 9						
特訓 10						
特訓 11						
特訓 12						
特訓 13						
特訓 14						
特訓 15						







成績表

完成了綜合測驗，記下自己的分數後，嘗試評估自己的表現，在適當的方格內打「✓」，然後請家長也來評估。

 非常滿意

 尚算滿意

 還要努力

項目名稱	分數	自我評估			家長評估		
							
綜合測驗 1	/ 100						
綜合測驗 2	/ 100						
綜合測驗 3	/ 100						