




根據算柱表示的數，完成下列各題。(每項 1 分，共 10 分)

1. 
- (a) 千位數字是 \_\_\_\_\_，表示 \_\_\_\_\_。
- (b) 百位數字是 \_\_\_\_\_，表示 \_\_\_\_\_。
- (c) 十位數字是 \_\_\_\_\_，表示 \_\_\_\_\_。
- (d) 個位數字是 \_\_\_\_\_，表示 \_\_\_\_\_。
- (e) 寫作：\_\_\_\_\_
- (f) 讀作：\_\_\_\_\_

看圖回答下列各題。(每題 2 分，共 6 分)



2. A 袋有金幣 \_\_\_\_\_ 個。(用中國數字表示)
3. C 袋有一千八百零七個金幣。用阿拉伯數字在 C 袋上標出金幣的數量。
4. 金幣數量最多的是 \* A / B / C 袋，最少的是 \* A / B / C 袋。  
(\* 圈出正確答案)

在○內填上「>」、「=」或「<」。(每題1分，共4分)

5. 1258 ○ 1140


6. 4096 ○ 4628

7. 3257 ○ 3752

8. 5301 ○ 5310

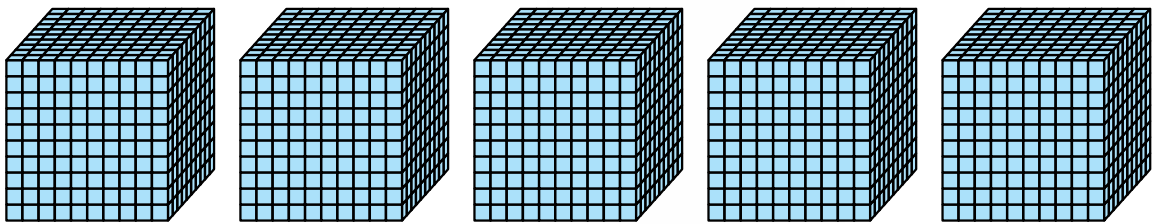
在\_\_\_上填上適當的數。(每題2分，共4分)

9.



上圖中每袋有250個硬幣，4袋共有硬幣\_\_\_\_\_個。

10.



上圖有\_\_\_\_\_個1000，即共有\_\_\_\_\_。

依指示用數字卡組成四位數。(每題2分，共8分)

11.



組成最大的四位數是\_\_\_\_\_。

12.



組成最小的四位數是\_\_\_\_\_。

13.



組成最大的四位偶數是\_\_\_\_\_。

14.



組成最小的四位奇數是\_\_\_\_\_。

# 13 方向

日期：

限時：19 分鐘

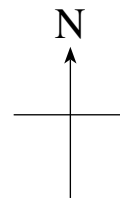


看看圖，完成下列各題。 建議作答時間：9 分鐘

- 1.
- 
- (a) 在左圖的  內填上餘下的方向。
- (b) 在 的 \_\_\_\_\_ 方。
- (c) 在 的 \_\_\_\_\_ 方。
- (d) 的北方有 \* / / 。
- (\* 圈出正確答案)

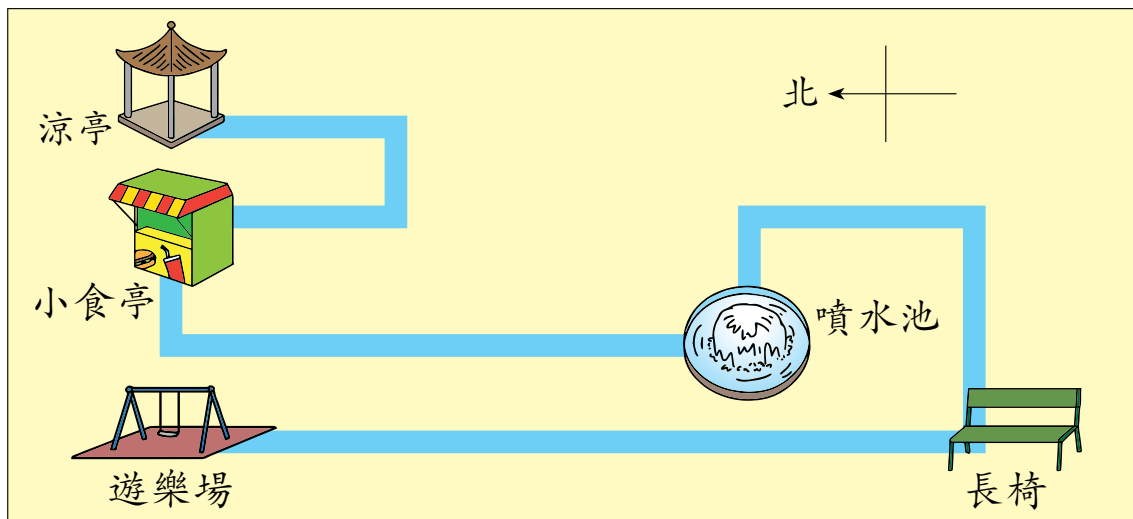
2.

街市		學校	志文
			廣場
泳池			
	書店		惠美



- (a) 街市在泳池的 \_\_\_\_\_ 方，在學校的 \_\_\_\_\_ 方。
- (b) 惠美在志文的 \_\_\_\_\_ 方，在 \_\_\_\_\_ 的東方。
- (c) 公園在書店的北方，在廣場的西方。在方格內標示公園的位置。
- (d) 商場在書店的東方，在學校的南方。在方格內標示商場的位置。
- (e) 承上題，商場在惠美的 \_\_\_\_\_ 方。

在 \_\_\_\_\_ 上填上答案。 建議作答時間：6分鐘



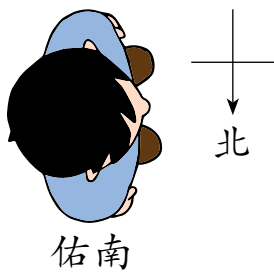
3. 小食亭在遊樂場的 \_\_\_\_\_ 方，在涼亭的 \_\_\_\_\_ 方。

4. 遊樂場在涼亭的 \_\_\_\_\_ 方，在長椅的 \_\_\_\_\_ 方。

5. 噴水池 \_\_\_\_\_ 方 → \_\_\_\_\_ 方 小食亭 \_\_\_\_\_  
\_\_\_\_\_ 方 → \_\_\_\_\_ 方 → \_\_\_\_\_ 方 涼亭

6. 噴水池 \_\_\_\_\_ 方 → \_\_\_\_\_ 方 → \_\_\_\_\_ 方 長椅  
\_\_\_\_\_ 方 遊樂場

完成下列各題。 建議作答時間：4分鐘



7. 如果佑南向右轉 1 個直角，會面向 \_\_\_\_\_ 方。

8. 如果佑南向右轉 2 個直角，會面向 \_\_\_\_\_ 方。

9. 如果佑南向左轉 1 個直角，會面向 \_\_\_\_\_ 方。

10. 如果佑南向左轉 3 個直角，會面向 \_\_\_\_\_ 方。



第 10 題：向左轉 3 個直角與向右轉多少個直角相同？

# 表現評估







## 評估表

完成特訓後，你能掌握每個特訓重點嗎？不妨自我評估，在適當的方格內打「✓」，然後請家長也來評估。

 全部掌握

 部分掌握

 還要努力


項目名稱	自我評估			家長評估		
						
特訓 1						
特訓 2						
特訓 3						
特訓 4						
特訓 5						
特訓 6						
特訓 7						
特訓 8						
特訓 9						
特訓 10						
特訓 11						
特訓 12						
特訓 13						
特訓 14						
特訓 15						






## 成績表

完成了綜合測驗，記下自己的分數後，嘗試評估自己的表現，在適當的方格內打「✓」，然後請家長也來評估。

 非常滿意

 尚算滿意

 還要努力

項目名稱	分數	自我評估			家長評估		
							
綜合測驗 1	/ 100						
綜合測驗 2	/ 100						
綜合測驗 3	/ 100						